

..... Liczba punktów Podpis sprawdzającego
..... Pieczęć szkoły	

**KONKURS Z HISTORII
WARMIŃSKO-MAZURSKIEGO
KURATORA OŚWIATY
DLA UCZNIÓW GIMNAZJÓW
ROK SZKOLNY 2017/2018
ETAP SZKOLNY**

Drogi młody historyku.

Witamy Cię na etapie szkolnym konkursu historycznego.

Przed Tobą

21 zadań do wykonania.

Dokładnie czytaj polecenia, przemyśl każdą odpowiedź.

W zadaniach zamkniętych prawidłową odpowiedź zaznacz znakiem X.


Pracuj samodzielnie. Unikaj skreśleń.

Na wypełnienie testu masz 60 min.

Życzymy Ci sukcesów!

Komisja Konkursu Historycznego
Warmińsko-Mazurskiego Kuratora Oświaty
w Olsztynie

Ilustracja do zadania 1. 2.



Zadanie 1. (0-1)

Zaznacz poprawnie zakończone zdania.

Na ilustracji przedstawiono pismo, które powstało w dorzeczu rzeki

- A. Nil.
- B. Jordan.
- C. Eufkrat.
- D. Indus.

Zadanie 2. (0-3)

Wymień trzy funkcje pisma widocznego na ilustracji, które miały wpływ na powstanie pierwszych cywilizacji.

.....

.....

.....

Tekst do zadania 3.

12 września obie armie stanęły naprzeciwko siebie. Miltiades poderwał śpiących w szyku żołnierzy, którzy ruszyli na nieprzyjaciela przeformowując szyk tak, by skrzydła były dwukrotnie mocniejsze niż centrum. Będąc w odległości 150-200 metrów od Persów ruszyli biegiem, uniemożliwiając im skorzystanie z ich najgroźniejszej broni - łuków. Grecy uderzyli najmocniej na skrzydła i tam odnieśli od razu sukces. Persowie dostali się w kleszcze atakujących z powodzeniem na skrzydłach Greków i w panice rozpoczęli ucieczkę w kierunku własnych okrętów.

Zadanie 3. (0-3)

Na podstawie źródła i własnej wiedzy oceń prawdziwość poniższych zdań. Zaznacz P, jeśli zdanie jest prawdziwe, albo F- jeśli jest fałszywe.

3.1.	Opisany w źródle przebieg bitwy miał miejsce pod Salaminą.	P	F
3.2.	Grecy w czasie bitwy pokonali króla Persów Dariusza.	P	F
3.3.	Miltiades był przywódcą greckich hoplitów.	P	F

Tekst do zadania 4. 5.

W III wieku p.n.e., gdy Rzymianie wprowadzili kult greckich bogów olimpijskich pod imionami rzymskimi, bogowie zyskali ludzką postać. Największym szacunkiem wśród bóstw państwowych cieszyła się trójca kapitolńska – Jowisz, Junona i Minerva. Wśród bóstw prywatnych lary i penaty, czyli bóstwa domowe, many – czyli dusze przodków i bogini ogniska domowego – Westa. Tradycja przypisuje wprowadzenie kultu Westy królowi Numie Pompiliuszowi.

Zadanie 4. (0-3)

Wymień imiona greckich bogów występujących pod imionami rzymskiej trójcy kapitolńskiej. Wypełnij tabelę.

Imiona greckich bogów	Rzymska trójca kapitolńska

Zadanie 5. (0-1)

Zaznacz poprawnie zakończone zdanie.

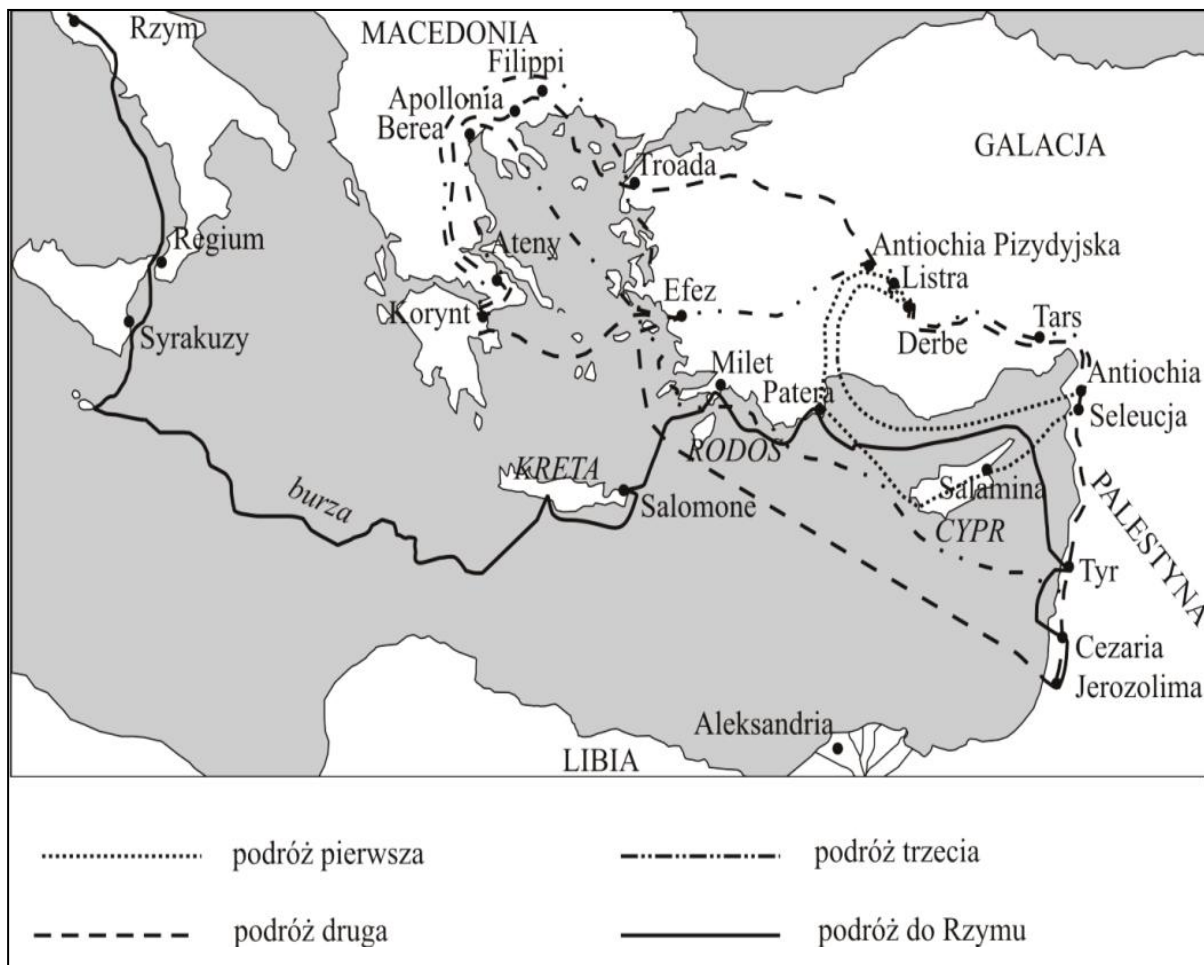
Kult bogini Westy został przyjęty przez Rzymian

- A. przed powstaniem republiki rzymskiej.
- B. po powstaniu cesarstwa rzymskiego.
- C. przed panowaniem Romulusa.
- D. po pojawieniu się chrześcijan.

Tekst do zadania 6.

Odbył trzy podróże misyjne. W czasie pierwszej ok. 45 – 49 r. odwiedził Cypr oraz środkową część Azji Mniejszej. W czasie drugiej podróży misyjnej działał na terenie Azji Mniejszej, Macedonii i Grecji, a głównym terenem działalności w czasie trzeciej podróży był Efez. Uwięziony w czasie prześladowania chrześcijan został skazany na śmierć i ścięty w Rzymie zapewne w 64 lub 67 r.

Mapa do zadania 6.



Zadanie 6. (0-3)

Na podstawie źródeł i własnej wiedzy ocień prawdziwość poniższych zdań. Zaznacz P, jeśli zdanie jest prawdziwe, albo F- jeśli jest fałszywe.

6.1.	Treść mapy jest potwierdzeniem przebiegu trasy opisanej w źródle.	P	F
6.2.	Misjonarz opisany w źródle należał do 12 Apostołów Jezusa.	P	F
6.3.	Misjonarz zginął w Rzymie gdy cesarzem był Oktawian August.	P	F

Ilustracja do zadania 7.

Koronacja Karola Wielkiego



Zadanie 7. (0-3)

Uzupełnij poniższy tekst. Przyporządkuj do każdego zdania właściwe uzupełnienie spośród oznaczonych literami A – C.

Na ilustracji widać arystokrację świecką i duchowną otaczającą **7.1.** _____.
Przedstawione wydarzenia miały miejsce w **7.2.** _____ wieku. Skutkiem wydarzenia przedstawionego na mapie było **7.3.** _____.

- | | | | |
|----|---|---|--|
| 1. | A. Karola Wielkiego i papieża Grzegorza VII | B. Karola Wielkiego i papieża Leona III | C. Karola Wielkiego i papieża Jana XII |
| 2. | A. VIII | B. IX | C. X |
| 3. | A. odnowienie Cesarstwa Niemieckiego | B. odnowienie Cesarstwa Rzymskiego | C. odnowienie Państwa Kościelnego |

Tekst do zadania 8.

Kiedy w dzień świętego Jana Chrzciciela starli się z Mieszkiem, odnieśli zrazu zwycięstwo, lecz potem Czibor zadał im klęskę, kładąc trupem wszystkich najlepszych rycerzy. Cesarz Otton I wysłał czym prędzej gońców, nakazując Hodonowi i Mieszkowi, aby pod rygorem utraty jego łaski zachowali pokój.

Zadanie 8. (0-3)

Uzupełnij poniższy tekst. Przyporządkuj do każdego zdania właściwe uzupełnienie spośród oznaczonych literami A – C.

Wydarzenie opisane w źródle miało miejsce w 8.1. _____ wieku. Jedna z osób opisana w źródle była spokrewniona z 8.2. _____. Zachowanie Mieszka opisane w źródle jest przejawem dążenia do 8. 3. _____.

- | | | | |
|----|------------------|-----------------------------------|-------------------------------|
| 1. | A. IX w. | B. X | C. XI w |
| 2. | A. Mieszkiem I | B. Hodonem | C. Ottonem I |
| 3. | A. chrztu Polski | B. podporządkowania się cesarzowi | C. uniezależnienia od cesarza |

Mapa do zadania 9.



Zadanie 9. (0-4)

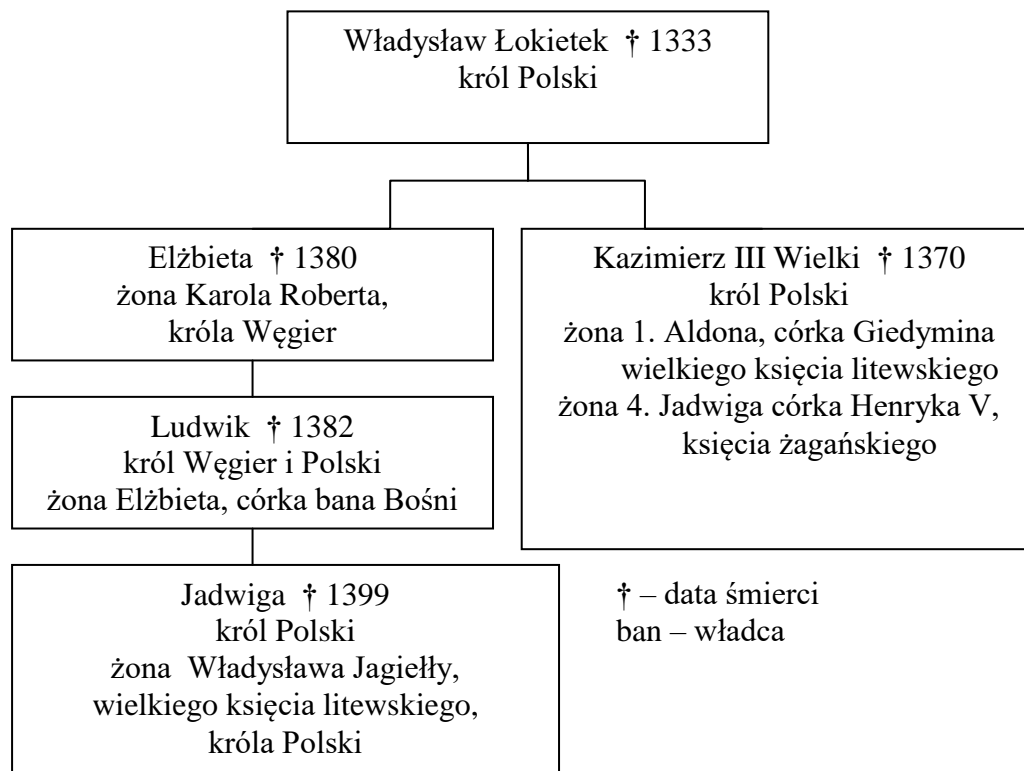
Uzupełnij luki w tekście odnoszące się do treści mapy.

Mocą decyzji Bolesław Krzywoustego zaznaczona na mapie dzielnica senioralna miała należeć do jego syna 9.1. _____, który otrzymał także dzielnicę o nazwie 9.2. _____. Mazowsze otrzymał 9.3. _____. Zwierzchnie prawa do Pomorza uzyskał 9. 4. _____.

Zadanie 10. (0–4)

Każdemu wydarzeniu w tabeli dopisz jego następstwo.

10.1.	Dążenie Bolesława Chrobrego do chrystianizacji Prus.	
10.2.	Dążenie Kazimierza Wielkiego do ujednoczenia prawa.	
10.3.	Dążenie Władysława Jagiełły do odzyskania Pomorza Gdańskiego.	
10.4.	Niezadowolenie szlachty i mieszczan z rządów krzyżackich na Pomorzu i w Prusach.	

Tablica genealogiczna do zadania 11.**Zadanie 11. (0–3)**

Na podstawie tablicy i własnej wiedzy oceń prawdziwość poniższych zdań. Zaznacz P, jeśli zdanie jest prawdziwe, albo F- jeśli jest fałszywe.

11.1.	Żonę Władysława Jagiełły Jadwigę łączyły związki rodzinne z Kazimierzem Wielkim.	P	F
11.2.	Jagiellonowie byli spokrewnieni z Adegawenami od 1382 r.	P	F
11.3.	Pierwsza żona Kazimierza Wielkiego była spokrewniona z Jagiełłą.	P	F

Ilustracja do zadania 12.



Zadanie 12. (0–3)

Wymień widoczne na ilustracji trzy cechy (elementy architektoniczne), które świadczą o renesansowym charakterze budowli.

12.1.	
12.2.	
12.3.	

Tekst do zadania 13.

Nieograniczoną władzę objął młody (23-letni) Ludwik XIV bezpośrednio po śmierci kardynała Mazarina. Nowy król w pełni realizował zasadę, iż władza królewska pochodzi od Boga. Król-słońce nie ograniczał się jednak w stosunkach z poddanymi do podkreślania niemalże boskości swej osoby. Potrafił być, bezwzględny, wtrącał ludzi do więzień, głównie do osławionej już w jego czasach paryskiej Bastylji, bez żadnego wyroku sądowego.

Zadanie 13. (0–3)

Na podstawie źródła i własnej wiedzy oceń prawdziwość poniższych zdań. Zaznacz P, jeśli zdanie jest prawdziwe, albo F- jeśli jest fałszywe.

13. 1.	Francja w czasie rządów Ludwika XIV była monarchią teokratyczną.	P	F
13. 2.	W Polsce w II poł. XVII wieku król posiadał takie same uprawnienia jak król Francji.	P	F
13. 3.	Polityka Ludwika XIV doprowadziła do szturmu na wymienioną w tekście Bastylię rozpoczynając Wielką Rewolucję Francuską.	P	F

Zadanie 14. (0–4)

W tabeli zamieszczono opisy bitew stoczonych przez Polaków w XVII w. W kolejnych rubrykach wpisz: **1.miejsce bitwy**, **2.datę roczną**, z którą związane są poniższe opisy.

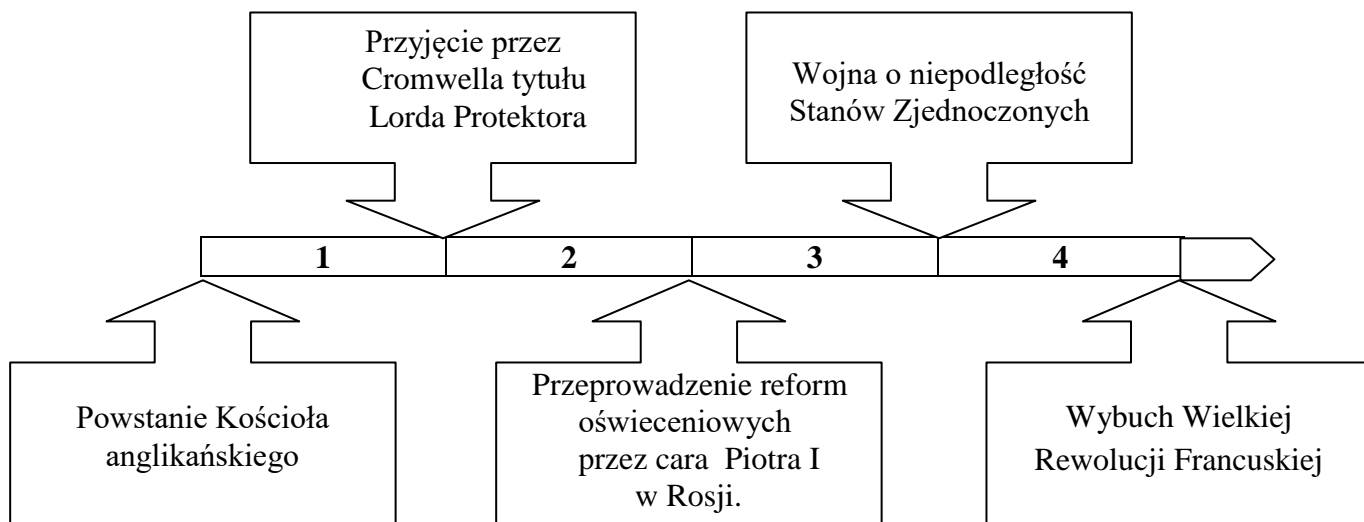
14.1.	<i>Po niepowodzeniach kampanii roku 1604 Szwedzi przeprowadzili reorganizację swej armii i dużymi siłami wylądowali ponownie w Inflantach, Obie armie spotkały się nad Dźwiną. Szwedzi mieli około 10.800 żołnierzy. Wojsko Chodkiewicza liczyło zaledwie 4.000. Przelamująca szarża husarii zmusiła Szwedów do odwrotu. Niebawem cała ich armia poszła w rozsypkę.</i>	1.
		2.
14.2.	<i>Sułtan Osman II podszedł z ogromną armią ponad 100 000 żołnierzy tureckich. Z żelazną energią, przy niedostatku pożywienia, przy braku kul i prochu, potrafił Chodkiewicz przetrzymać długie oblężenie i wyprowadzić wojsko do kontrataków. Ciężko jednak zachorował i zmarł w zamku dnia 24 września. Ostatecznie sułtan odstąpił od oblężenia, a obrona rozstawiła Polskę w świecie, przydając jej miano „przedmurza chrześcijaństwa”.</i>	1.
		2.
14.3.	<i>Wasyl Szujski z braćmi szykował odsiecz Smoleńska. Wojskami rosyjskimi dowodził brat cara Dymitr Szujski. Hetman Żółkiewski, powiadomiony przez szpiegów o tych działaniach, z zaledwie 200 żołnierzami piechoty kozackiej i kilkoma działami udał się w kierunku wojsk Szujskiego. Spotkanie obu wojsk nastąpiło dnia 4 lipca. Chorągwie szły do ataku jedna po drugiej. W końcu szyki moskiewskie zmieszały się i zostały przelamane.</i>	1.
		2.
14.4.	<i>Od Dniestru i zbawczej granicy dzieliło ich już tylko półtorej mili, ale właśnie wtedy nastąpił w wojsku kryzys. Żółkiewski podprowadzonego mu konia przebił szablą, nie chciał uciekać, tylko zginąć w boju. Z szablą w dłoni torował sobie drogę, ale otoczony przeważającymi siłami Tatarów zginął śmiercią żołnierza.</i>	1.
		2.

Tekst do zadań 15. 16.

Porozumienie międzypaństwowe **tzw. Traktat trzech czarnych orłów**

Trzy mocarstwa postanowiły użyć wszelkich środków zgodnych z polską konstytucją, aby na elekcji wybrano króla, który byłby w stanie utrzymać pokój i dobre stosunki z sąsiadującymi państwami; doświadczenie wykazało, że francuska partia w Polsce wzniesła ciągle niepokoje przeciw cesarzowi i królowi pruskiemu. Sojusznicy przeto zobowiązują się w czasie elekcji wystawić na polskich granicach armie, nie w celu narzucenia wyboru siłą oręża, lecz aby ochraniać polską wolność od wszelkiego skrępowania ze strony państw postronnych.

Taśma chronologiczna do zadań 15. 16.



Zadanie 15. (0 – 1)
Dokończ zdanie.

Traktat *trzech czarnych orłów* został zawarty w okresie oznaczonym na taśmie chronologicznej numerem

- A. 1.
- B. 2.
- C. 3.
- D. 4.

Zadanie 16. (0–3)

Podaj nazwy dynastii, których przedstawiciele podpisali traktat *trzech czarnych orłów*

.....

Zadanie 17. (0 – 4)

Uzupełnij luki w tekście odnoszące się do młodości Tadeusza Kościuszki.

Urodzony w Mereczowszczyźnie w 1746 roku syn Ludwika i Tekli miał troje rodzeństwa. W wieku dziewięciu lat został wraz z bratem Józefem zapisany do szkoły w Lubieszowie prowadzonej przez **17.1.** Szkoły nie ukończył ponieważ **17.2.**

.....

.....

Dopiero w 1765 roku wstąpił do trzyletniej szkoły oficerskiej zwanej

17.3......założonej przez **17.4.**

Tekst do zadania 18.

Kościuszko przy blokadzie Charlestonu (1781 – 1782) kierował pracami inżynieryjnymi. Jako dowódca batalionu piechoty i szwadronu kawalerii prowadził energiczną akcję zwalczania mniejszych oddziałów. Pierwsze oddziały amerykańskie wkroczyły do wyzwolonego miasta 14 grudnia. W triumfalnym marszu na czele swego oddziału szedł Tadeusz Kościuszko.

Zadanie 18. (0-2)

Na podstawie tekstu i własnej wiedzy wybierz właściwe zakończenie zdania.

18.1. Do wydarzeń przedstawionych w tekście doszło

- A. podczas fortyfikowania Filadelfii.
- B. przed budową twierdzy w West Point.
- C. po kapitulacji Anglików pod Yorktown.
- D. podczas wizytowania pola bitwy przez Thomasa Jeffersona.

18.2. W czasie wydarzeń przedstawionych w tekście

- A. Komisja Edukacji Narodowej rozpoczęła reformowanie szkolnictwa wyższego.
- B. rozpoczęła się wojna Polski z Rosją w obronie Konstytucji 3 maja.
- C. Rosja i Prusy dokonały II rozbioru Polski.
- D. rozpoczęły się obrady sejmku wielkiego.

Tekst do zadania 19.

Dalej chłopcy, dalej żywo,
otwiera się dla nas żniwo,
rzućwa pługi, rzućwa radło,
trza wojować, kiej tak padło.

Albośwa jacy,
jeno chłopcy krakowiacy,
harda w nas dusza,
nie boim się Rusa, Prusa!
Dość nas uciskali,
nie ścierpiwa krzywdy dalej,
chwyćwa za obuszki,
pójdźwa wszyscy do Kościuszki.

Zadanie 19. (0-3)

Na podstawie źródeł i własnej wiedzy oceń prawdziwość poniższych zdań. Zaznacz P, jeśli zdanie jest prawdziwe, albo F- jeśli jest fałszywe.

19.1.	W wierszu zostały wymienione żądania chłopów związane z przystąpieniem do powstania.	P	F
19.2.	Uniwersał Połaniecki został wydany pod wpływem opisanego w wierszu zachowania chłopów.	P	F
19.3.	Z wiersza można dowiedzieć się jaką postawę zajęła szlachta wobec powstania.	P	F

Ilustracje do zadania 20.



Zadanie 20. (0 – 1)

Dokończ poniższe zdanie – wybierz właściwą odpowiedź spośród podanych.

Wydarzenia związane z powstaniem kościuszkowskim zostały przedstawione na ilustracjach oznaczonych numerami

- A. 1 i 2.
- B. 1 i 4.
- C. 3 i 4.
- D. 1 i 3.

Tekst do zadania 21.

26 XI 1796 r.

Car Paweł I wraz z wielkim księciem Aleksandrem odwiedzają Kościuszkę. Car na powitanie powiedział: Przyszedłem, mój Generale, wolność ci przywrócić.

Zadanie 21. (0 – 2)

Na podstawie tekstu i własnej wiedzy, wyjaśnij w jakich okolicznościach odbyło się spotkanie opisane w tekście i podaj jego konsekwencje.

.....
.....
.....